
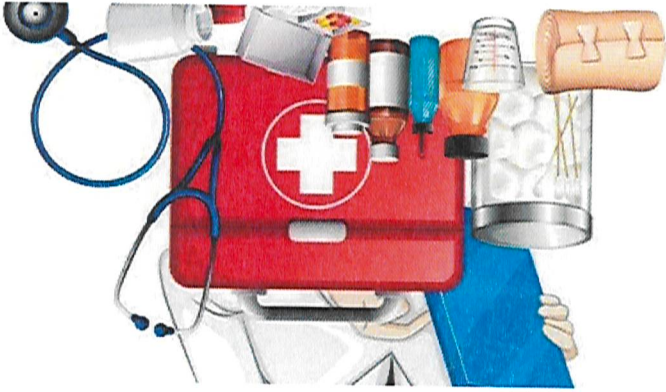




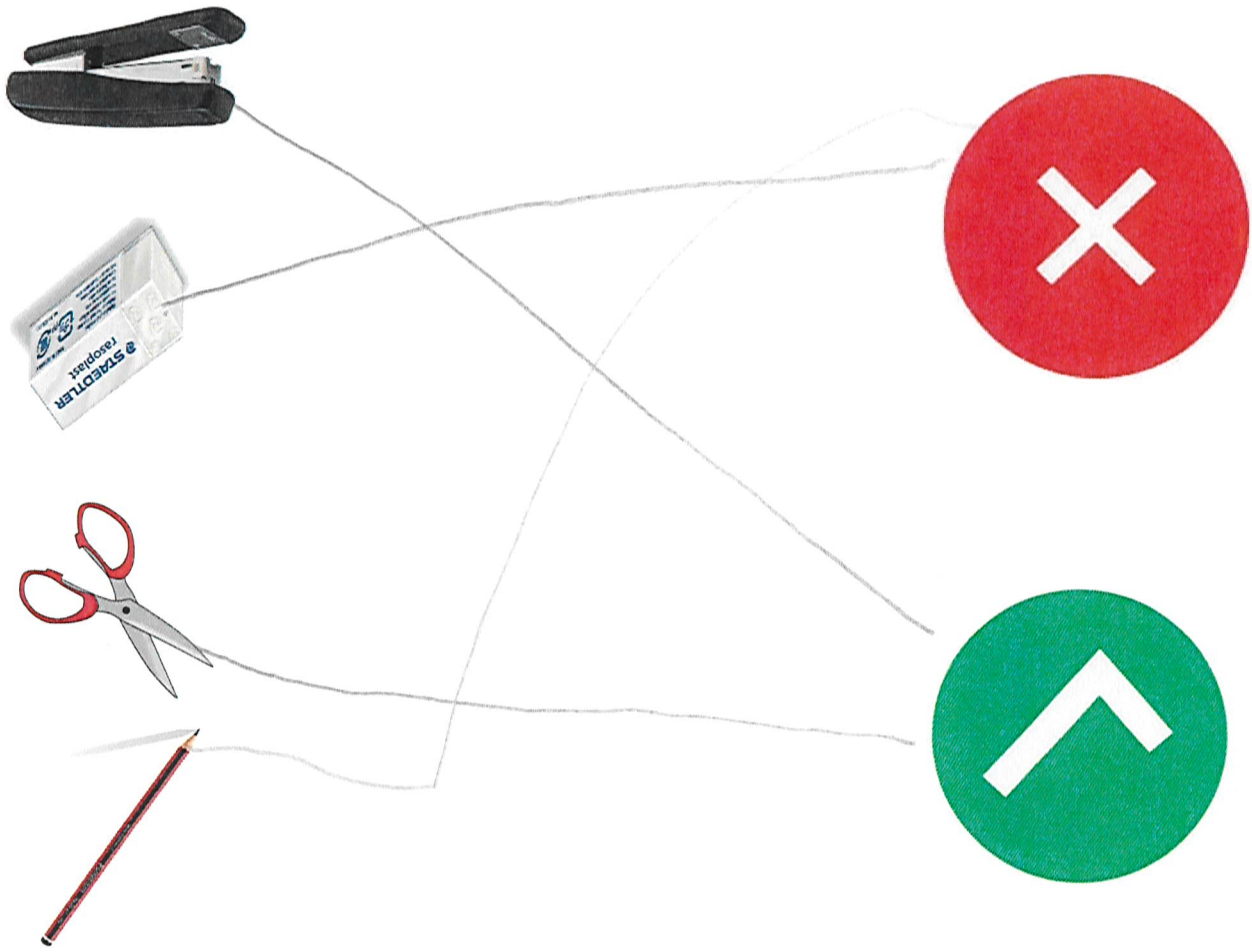
السؤال الأول	السؤال الثاني
السؤال الثالث	السؤال الرابع
السؤال الخامس	السؤال السادس
السؤال السابع	السؤال الثامن
السؤال التاسع	

اسم الطالب/ة	رقم	اسم الموضوع	ح
اسم الطالب	رقم	اسم الموضوع	السؤال الأول
اسم الطالب	رقم	اسم الموضوع	2023
اسم الطالب	رقم	اسم الموضوع	<ul style="list-style-type: none"> <li>السؤال الأول</li> <li>السؤال الثاني</li> <li>السؤال الثالث</li> <li>السؤال الرابع</li> <li>السؤال الخامس</li> <li>السؤال السادس</li> <li>السؤال السابع</li> <li>السؤال الثامن</li> <li>السؤال التاسع</li> <li>السؤال العاشر</li> <li>السؤال الحادي عشر</li> <li>السؤال الثاني عشر</li> <li>السؤال الثالث عشر</li> <li>السؤال الرابع عشر</li> <li>السؤال الخامس عشر</li> <li>السؤال السادس عشر</li> <li>السؤال السابع عشر</li> <li>السؤال الثامن عشر</li> <li>السؤال التاسع عشر</li> <li>السؤال العشرون</li> </ul>
السؤال الحادي والعشرون			



السؤال الأول

ضع دائرة على الإشارات الآتية والسلاسة في منطقة العمل



السؤال الثاني	توصيل المعدات والأجهزة منه في منطقة العمل
---------------	---

السؤال الثاني

السؤال الثاني	تطبيق عمل: يقوم الطالب بتطبيق منطقة العمل مع الفريق
---------------	---



المجلس الأعلى للدراسات والبحوث  
بجامعة القاهرة  
مصر

السؤال رقم ١	<p>المجلس الأعلى للدراسات والبحوث بجامعة القاهرة مصر</p> <p>المجلس الأعلى للدراسات والبحوث بجامعة القاهرة مصر</p>
--------------	---

